

1*	Miejsce egzaminu	
2*	Numer kandydata	
3*	Kierunek studiów	
4	Liczba uzyskanych punktów	/100

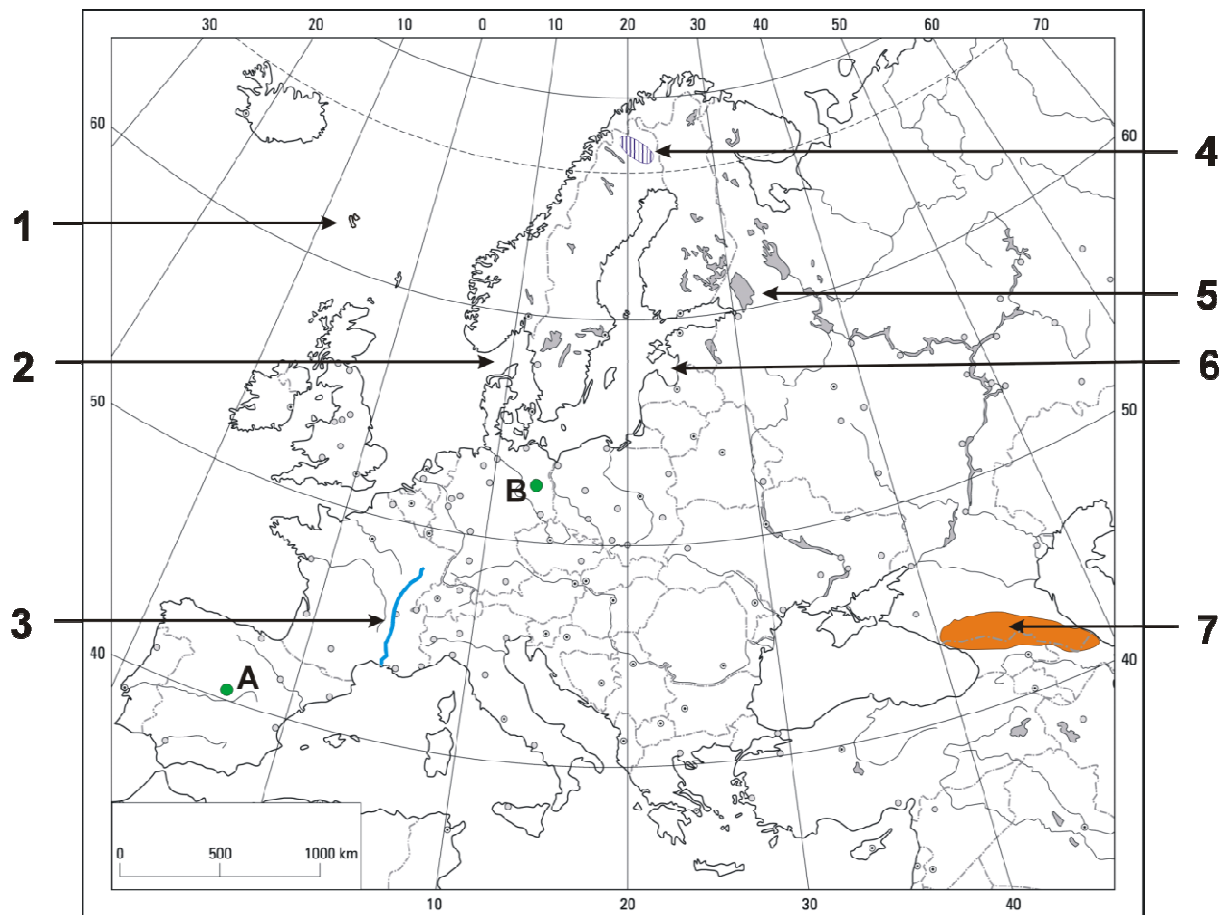
*** wypełnia kandydat**

T E S T Z G E O G R A F I I

Test rekrutacyjny dla kandydatów na studia w Polsce

WERSJA I - A

2014 rok

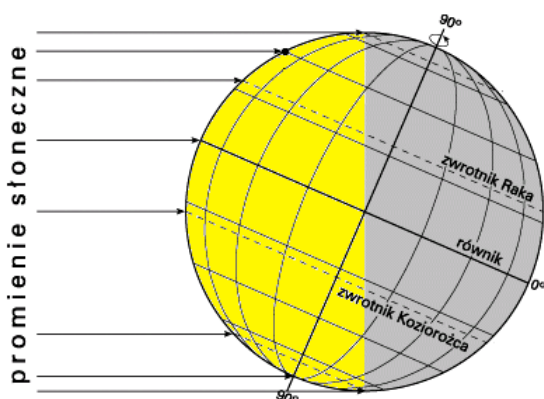


1. Cyfrą **1** oznaczono na mapie
 A) Szetlandy. B) Orkady. C) Wyspy Owcz. D) Svalbard.
2. Jak nazywa się cieśnina zaznaczona na mapie cyfrą **2**?
 A) Belt. B) Kattegat. C) Dardanele. D) Skagerrak.
3. Którą rzekę zaznaczono na mapie cyfrą **3**?
 A) Ren. B) Dunaj. C) Sekwanę. D) Rodan.
4. Jaki surowiec mineralny jest wydobywany na obszarze oznaczonym cyfrą **4**?
 A) Węgiel kamienny. B) Ropa naftowa. C) Gaz ziemny. D) Żelazo.
5. Cyfrą **5** oznaczono na mapie jezioro
 A) Śniardwy. B) Ładoga. C) Onega. D) Wenner.
6. Cyfra **6** przedstawia na mapie obszar Zatoki
 A) Gdańskiej. B) Bałtyckiej. C) Fińskiej. D) Ryskiej.
7. Które pasmo górskie przedstawiono na mapie cyfrą **7**?
 A) Karpaty. B) Kaukaz. C) Ural. D) Alpy.
8. Który zestaw nazw odpowiada miastom oznaczonym na mapie literami **A** i **B**?
 A) **A** – Lizbona, **B** – Paryż. B) **A** – Malaga, **B** – Warszawa.
 C) **A** – Barcelona, **B** – Praga. D) **A** – Madryt, **B** – Berlin.

9. Odległość rzeczywista między Łodzią a Gdańskiem wynosi 330 km, zaś na mapie 5 cm. Jaka jest skala tej mapy?
 A) 1:300 000. B) 1:660 000. C) 1:6 600 000. D) 1: 3 000 000.
10. Podano cztery skale:
 a) 1: 100 000, c) 1 cm – 0,1 m,
 b) 1cm – 1 km, d) 1:1000.
 Która z podanych skal jest większa od skali 1:100 000?
 A) Tylko skala b. B) Skala b i c. C) Skala c i d. D) Żadna.
11. Samolot leciał z Los Angeles (34°N, 118°W) do Tokio (35°N, 140°E) 11 godzin. Wystartował 20 czerwca o godzinie 23:00 według lokalnego czasu miejscowego. O której godzinie i którego dnia lądował w Tokio według lokalnego czasu miejscowego?
 A) 21.06 – 10:00. B) 22.06 – 1:12. C) 22.06 – 3:12. D) 21.06 – 13:48.
12. Które zestawienie w prawidłowy sposób przedstawia wysokość Słońca nad horyzontem w Nowym Jorku (40°N, 74°W) w południe w dniach równonocy, przesilenia letniego i zimowego?

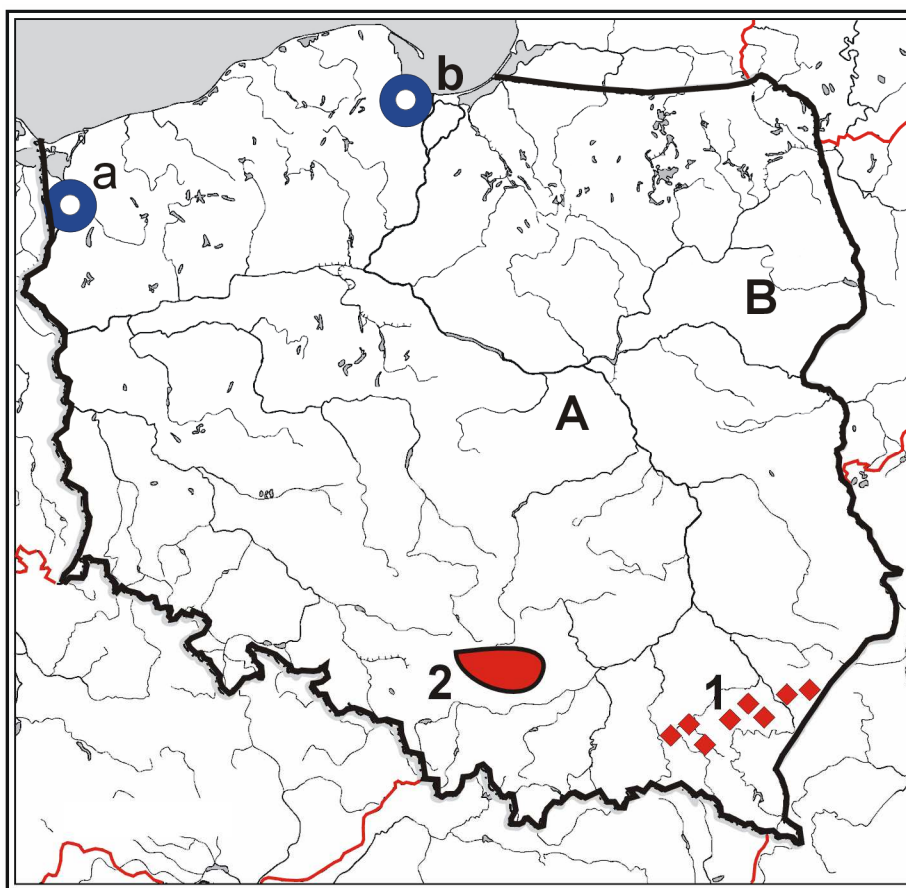
Odpowiedź	Dzień równonocy wiosennej i jesiennej	Dzień przesilenia letniego	Dzień przesilenia zimowego
A	40°	90°	23°27'
B	50°	90°	23°27'
C	50°	73°27'	26°33'
D	16°	39°27'	6°23'

13. Jaka będzie temperatura na wierzchołku Baraniej Góry, na wysokości 1220 m n.p.m., jeśli w tym samym czasie u jej podnóża, w miejscowości Wisła (420 m n.p.m.) temperatura powietrza wynosi 3°C (z uwzględnieniem gradientu wilgotno-adiabatycznego)?
 A) 4,8°C. B) 11°C. C) – 1,8°C. D) – 5°C.
14. Na rysunku przedstawiono oświetlenie Ziemi w dniu



- A) przesilenia letniego.
 B) przesilenia zimowego.
 C) równonocy wiosennej.
 D) równonocy jesiennej.

15. Który z procesów geologicznych należy do egzogenicznych (zewnętrznych)?
 A) Trzęsienia ziemi. B) Wybuchy wulkanów.
 C) Ruchy górotwórcze. D) Działalność akumulacyjna.



16. Który zestaw zawiera prawidłowe nazwy krain historyczno-geograficznych oznaczonych na mapie Polski literami **A** i **B**?
- A) **A** – Mazowsze, **B** – Mazury. B) **A** – Wielkopolska, **B** – Podlasie.
C) **A** – Małopolska, **B** – Śląsk. D) **A** – Mazowsze, **B** – Podlasie.
17. Które nazwy polskich miast odpowiadają oznaczonym na mapie literom **a** i **b**?
- A) **a** – Szczecin, **b** – Gdańsk. B) **a** – Wrocław, **b** – Poznań.
C) **a** – Gdynia, **b** – Poznań. D) **a** – Białystok, **b** – Kraków.
18. Na obszarach oznaczonych na mapie cyframi **1** i **2** wydobywane są
- A) **1** – węgiel kamienny, **2** – ropa naftowa. B) **1** – gaz ziemny, **2** – węgiel kamienny.
C) **1** – sól kamienna, **2** – rudy cynku i ołowiu. D) **1** – węgiel brunatny, **2** – rudy miedzi.
19. Poniżej przedstawiono cztery wydarzenia z dziejów geologicznych Ziemi:
- a) wypiętrzenie Gór Skandynawskich i Appalachów,
b) tworzenie się złóż węgla kamiennego,
c) orogeneza alpejska,
d) zlodowacenia.
- Który zestaw prawidłowo porządkuje wydarzenia od najstarszego?
- A) a, b, c, d. B) c, b, a, d. C) d, c, b, a. D) b, c, a, d.

20. Tabela przedstawia dane klimatyczne (t – temperatura, o – opady) dla trzech spośród wymienionych miast: Warszawy (52°N, 21°E), Tromso (69°N, 19°E), Czeluska (77°N, 104°E) i Paryża (49°N, 2°E).

Miasto		I	II	III	IV	V	VI	VII	VIII	IX	X	XI	XII	Rok
1	t o	-31,8 21	-28,7 16	-28,5 8	-22,6 10	-11,2 15	-2,8 15	0,8 25	0,6 26	-2,9 12	-10,3 10	-22,6 18	-27,4 12	-15,6 187
2	t o	-2,4 114	-3,1 91	-2,2 83	0,6 61	3,9 59	7,5 55	11,0 62	10,8 54	7,0 137	2,8 124	-0,4 104	-2,1 87	2,8 1031
3	t o	3,4 42	3,7 39	6,5 44	9,0 48	13,6 56	16,9 58	17,9 55	17,5 55	15,7 46	10,5 81	5,7 54	4,0 50	10,3 613

Które zestawienie prawidłowo przedstawia nazwy miast i dane klimatyczne?

- A) **1** – Czeluska, **2** – Tromso, **3** – Paryż. B) **1** – Tromso, **2** – Warszawa, **3** – Paryż.
C) **1** – Czeluska, **2** – Tromso, **3** – Warszawa. D) **1** – Tromso, **2** – Paryż, **3** – Warszawa.

21. W tabeli zamieszczono podstawowe dane demograficzne dotyczące wybranych państw.

	Przyrost naturalny w ‰	Średnia długość życia kobiet w latach	Kraj
I	30,1	47	Niger
II	0,2	80	Polska
III	12,0	76	Brazylia
IV	4,1	84	Francja

W którym zestawie prawidłowo dopasowano nazwę kraju do podanych danych statystycznych?

- A) Tylko **I**. B) Tylko **II**.
C) Tylko **III** i **IV**. D) Wszystkie zestawy są prawidłowe.
E) Wszystkie zestawy są błędne.

22. Który zestaw zawiera miasta uporządkowane według położenia z zachodu na wschód?
A) Barcelona, Neapol, Bruksela, Budapeszt. B) Odessa, Praga, Monachium, Belfast.
C) Petersburg, Sztokholm, Helsinki, Londyn. D) Lizbona, Paryż, Belgrad, Berlin.
E) Lyon, Mediolan, Kraków, Bukareszt.

23. Który zestaw błędnie przyporządkowuje państwo do stolicy?

	Państwo	Stolica
I	Kosowo	Podgorica
II	Serbia	Belgrad
III	Nigeria	Abudża
IV	Laos	Wientian

- A) Tylko **I**. B) **II** i **III**.
C) **I** i **IV**. D) Wszystkie zestawy są prawidłowe.
E) Wszystkie zestawy są błędne.

24. Terytoriami zależnymi Stanów Zjednoczonych są

- A) Portoryko, Wyspy Dziewicze, Bermudy. B) Guam, Midway, Kajmany.
C) Guam, Midway, Wake. D) Bermudy, Kajmany, Falklandy.
E) Bahamy, Dominikana, Trynidad i Tobago.

25. Do języków germańskich zaliczamy

- | | |
|-------------------------------------|----------------------------------|
| A) islandzki, angielski, irlandzki. | B) włoski, francuski, niemiecki. |
| C) bretoński, walijski, szkocki. | D) czeski, węgierski, norweski. |
| E) niemiecki, angielski, szwedzki. | |

26. Które zdanie nie jest prawdziwe?

- I.** Mniejszość narodowa to grupa ludności żyjąca na terytorium określonego kraju, należąca do innego narodu niż większość mieszkańców kraju.
- II.** W Polsce mniejszości narodowe stanowią niewielki odsetek – około 3% ludności.
- III.** Węgry, Norwegia i Finlandia mają niewielki odsetek mniejszości narodowych.
- IV.** Największe mniejszości narodowe w Polsce stanowią Litwini, Łotysze i Słowacy.

- | | |
|-----------------------------------|-----------------------------|
| A) Tylko II . | B) II i III . |
| C) Tylko IV . | D) I i IV . |
| E) Wszystkie zdania są prawdziwe. | |

27. Które zestawienie nie przedstawia obszarów ekumeny w Azji?

- A) Wyspy Japonii, dolina Gangesu, Nizina Chińska.
- B) Nizina Mandżurska, Nizina Mezopotamska, dolina Indusu.
- C) Kotliną Kaszgarską, Tienszan, Karakorum.
- D) Himalaje, Tybet, Nizina Chińska.
- E) wyspa Jawa, wyspa Honsiu, Półwysep Koreański.

28. Milwaukee, Chicago, South Bend, Toledo, Detroit, Cleveland, Buffalo, Hamilton i Toronto to miasta tworzące

- | | |
|------------------------------------------|----------------------------------------|
| A) megalopolis wschodniego wybrzeża USA. | B) megalopolis okręgu Wielkich Jezior. |
| C) megalopolis zachodniego wybrzeża USA. | D) aglomerację monocentryczną Chicago. |
| E) konurbację Nowego Jorku. | |

29. **I.** Repatriacja to powrót do ojczyzny osób, które opuściły ją pod przymusem.

II. Jednym ze skutków migracji jest zjawisko drenażu mózgów, czyli osiedlania się w kraju migrantów z wysokimi kwalifikacjami.

III. Podstawowymi kierunkami emigracji Polaków w XXI wieku były Stany Zjednoczone i Kanada.

IV. Wielką Brytanię, Francję i Włochy uważa się za kraje emigracyjne.

Które zdanie nie jest prawdziwe?

- | | |
|----------------------------------|-----------------------------|
| A) Tylko I . | B) II i III . |
| C) Tylko IV . | D) III i IV . |
| E) Wszystkie zdania są poprawne. | |

30. Guadelupe jest jednym z najważniejszych miast pielgrzymkowych dla

- | | |
|----------------------------|----------------------|
| A) wyznawców prawosławia. | B) katolików. |
| C) protestantów. | D) wyznawców islamu. |
| E) dla wyznawców buddyzmu. | |

31. Program, który powstał w 1989 roku w celu udzielania materialnej pomocy państwom kandydującym do Wspólnoty Europejskiej, między innymi Polsce i Węgrom nazywał się
 A) SAPARD. B) OECD.
 C) PHARE. D) IMF.
 E) EWG.
32. Które zestawienie przedstawia uszeregowane od najstarszego wydarzenia z historii Unii Europejskiej?
 a – podpisanie traktatów rzymskich,
 b – utworzenie Europejskiej Wspólnoty Węgla i Stali,
 c – podpisanie traktatu z Maastricht,
 d – rozszerzenie Unii Europejskiej o Rumunię i Bułgarię.
 A) a, b, c, d. B) c, b, a, d.
 C) b, a, c, d. D) d, c, b, a.
 E) c, b, d, a.
33. Które terytoria nie były koloniami brytyjskimi?
 A) Nigeria, Sudan, Kenia. B) Indie, Pakistan, Bangladesz.
 C) Algieria, Libia, Mali. D) Australia, Nowa Zelandia, Kanada.
 E) Botswana, Zimbabwe, Zambia.
34. „*Nakłady pracy i kapitału oraz struktura produkcji są bardzo różne. Stosowane są intensywne zabiegi agrotechniczne, nawożenie i nawadnianie upraw, specjalizacja i mechanizacja procesów produkcyjnych. Dominuje własność prywatna.*”
 Opis dotyczy rolnictwa
 A) pierwotnego. B) tradycyjnego.
 C) towarowego. D) uspołecznionego.
 E) ekologicznego.
35. Największym producentem tej rośliny są Indie, ale powszechnie uprawiana jest także w Chinach, na Sri Lance i w Kenii. Opis dotyczy
 A) kawy. B) herbaty.
 C) pszenicy. D) ryżu.
 E) kukurydzy.
36. Który kraj cechuje się intensywnym sposobem uprawy?

Kraj	Zużycie nawozów sztucznych w kg / ha użytków rolnych	Plony zboża w q (kwintal) / ha	Ludność pracująca w rolnictwie na 100 ha użytków rolnych
I	102,4	32,4	24,6
II	120,1	49,1	4,7
III	46,4	28,3	0,7
IV	4,9	8,8	0,1
V	127,2	67,7	2,4

- A) Tylko **I**. B) Tylko **V**.
 C) **I**, **II** i **V**. D) **II** i **V**.
 E) **IV**.

